

**Онлайн конкурс «Умейка – Разумейка»  
для воспитанников детского сада**

*«Привет, ребята! Мы рады приветствовать вас на нашем конкурсе, сегодня вы пройдёте третий тур «Великий математик». Конкурсные работы принимаем до 27 декабря до 10.00 моск. времени.»*

Фамилия, Имя, Отчество ребёнка	
Группа	



1. Весной с юга прилетели три скворца и две утки. Сколько скворечников заселили птицы?

Ответ: 2 3 4 5

2. Посчитай коньки и клюшки. Сколько хоккеистов смогут выйти на лёд?

Ответ: 3 4 6



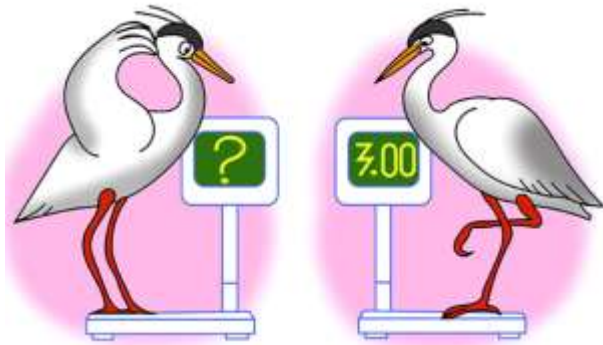
3. Посчитай, сколько треугольников на картинке?

Ответ: 3 4 5 6

4. У Тани было 5 конфет. Когда она отдала одну брату, у них стало поровну. Сколько конфет было у брата?

Ответ: 2 3 4 5





5. Когда цапля стоит на 1 ноге, то она весит 3 кг. Сколько будет весить цапля, если она встанет на две ноги?

Ответ: 2 3 4 6

6. Посчитай, сколько нужно вырезать кругов, чтобы сделать аппликацию по данному шаблону?

Ответ: 3 5 7 9



7. Мальчик сложил фигуры из счётных палочек. Определи, какая фигура отличается от остальных? Обведи ее.



8. Зайчик живёт в домике, который стоит между домиками белки и ёжика. Возле домика ёжика растёт ёлочка. Обведи домик, в котором живёт белочка.



9. На берёзе сидело пять синиц.  
Четвёртая синица улетела.  
Сколько синиц осталось?

Ответ: 3 4 5 6



10. Какая цифра потерялась на картинке справа?

Ответ: 6 4 3 2



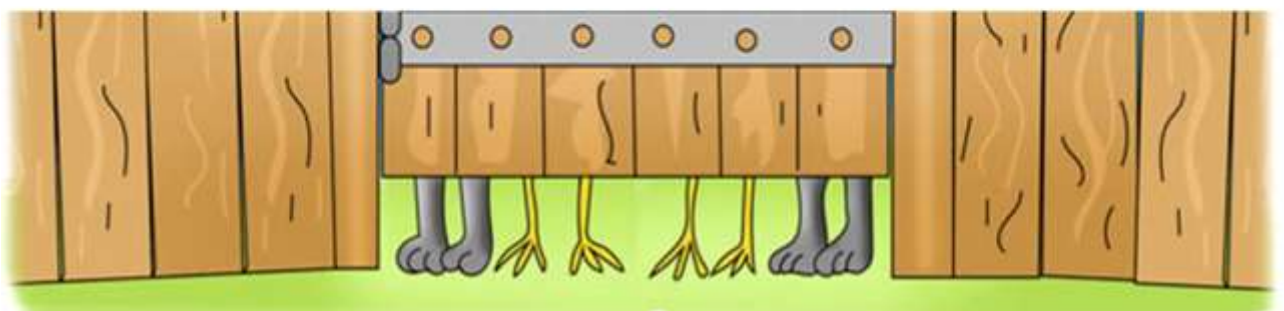
11. В семье семь человек:  
мама, папа, бабушка, дедушка  
и дети. Сколько в семье  
детей?

Ответ: 2 3 4 5



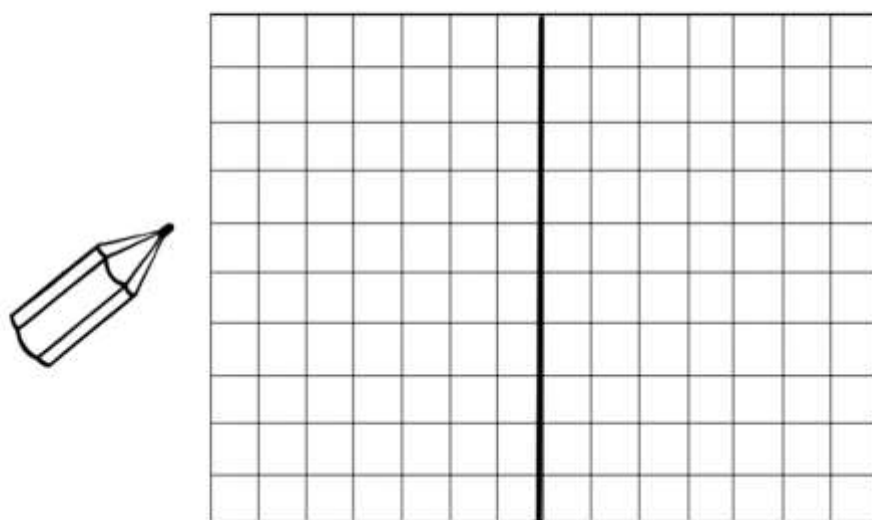
12. За калиткой спрятались собака и куры. Всего видно 8  
ног. Сколько кур за калиткой?

Ответ: 1 2 3 4





13. Нарисуй любой симметричный рисунок по клеточкам



14. Нарисуй недостающие аквариумы двум рыбкам так, чтобы в одной строке и в одной колонке аквариумы не повторялись.

